

Adı:.....

Soyadı:.....

Sınıfı ve No: 3/.....-.....

..... İLKOKULU

3/A SINIFI MATEMATİK DERSİ


ETKİNLİĞİ

ETKİNLİK-4

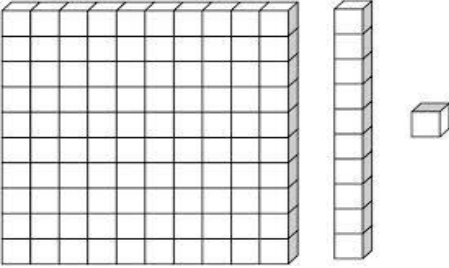
ÜÇ BASAMAKLI DOĞAL SAYILAR ETKİNLİĞİ



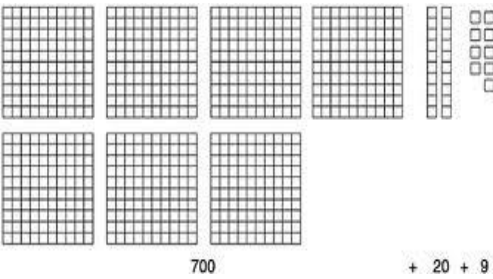
İyi çalışmalar arkadaşlar. Aşağıda verilen sayı bloklarıyla oluşan sayıları bulalım.



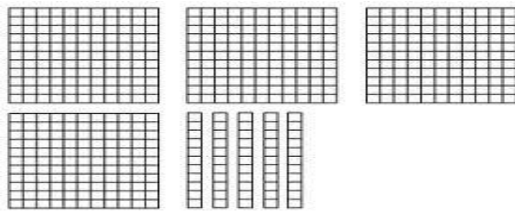
.....yüzlükonlukbirlik=



.....yüzlükonlukbirlik=



.....yüzlükonlukbirlik=



.....yüzlükonlukbirlik=