

Adı:.....

Soyadı:.....

Sınıfı ve No: 3/.....-.....

..... İLKOKULU

3/A SINIFI MATEMATİK DERSİ

ETKİNLİĞİ

ETKİNLİK-6

Basamak Değeri , Sayı Değeri , Basamak Adları



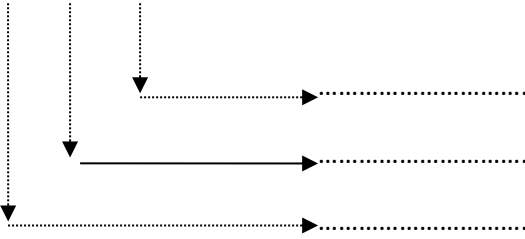
Hadi arkadaşlar aşağıda verilen üç basamaklı sayıların basamak adları , basamak değeri ve sayı değerlerini bulalım.

385

Basamak Adı

Basamak Değeri

Sayı Değeri



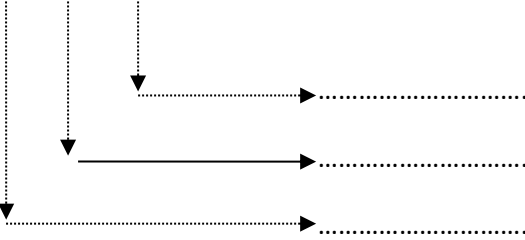
.....  
.....  
.....

605

Basamak Adı

Basamak Değeri

Sayı Değeri



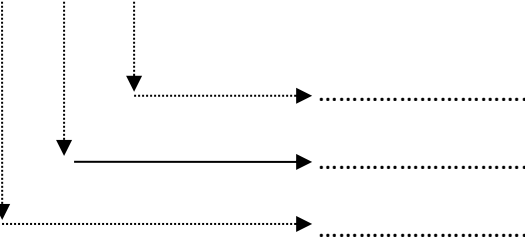
.....  
.....  
.....

790

Basamak Adı

Basamak Değeri

Sayı Değeri



.....  
.....  
.....